

Milli Tədris Olimpiadası

Tarix

II tur

X-XII siniflər

2021-2022-ci tədris ili

Tapşırıq üçün təlimat 1-3: Verilmiş məlumatı xronoloji prinsiplə sıralayın. Cavabları xanalarda yazın. Hər bir tapşırıq 1 xal ilə qiymətləndirilir.

1. Gürcü qala-şəhərlərini onların yaranma tarixinə əsasən xronoloji ardıcılıqla sıralayın:

1. Artanuci
2. Samşvilde
3. Kvetera

2. Gürcü mənbələrində adları çəkilən şəxsləri onların fəaliyyət dövrünə əsasən xronoloji ardıcılıqla sıralayın:

1. Zankan Zorababeli
2. Eqarşlan Bakurtsixeli
3. İoane Maruşidze

3. İxtiraları xronoloji ardıcılıqla sıralayın

1. Fotoqrafiyanın ixtirası
2. İlk uğurlu aeroplanın yaradılması
3. İlk metropolitenin tikilməsi

Tapşırıq üçün təlimat 4-5: İki sütunda verilmiş məlumatı bir-biri ilə uyğunlaşdırın. Hər bir tapşırığın maksimum qiyməti 4 xaldır.



4. İfadə ilə ifadənin yazıldığı tarixi şəxsiyyət arasındakı uyğunluğu müəyyənləşdirin:

	İfadə		Tarixi şəxsiyyət
A	Təsəvvür dünyanı idarə edir	1	Volter
B	Oh, zaman! Oh, vərmişlər!	2	Siseron
C	Məqsəd vasitəni doğruldur	3	Markus Avrelius
D	Əgər Allah olmasaydı, onu icad etmək vacib olacaqdı	4	Makiaveli


		5	Napoleon
		6	Aristotel

5. İllustrasiya və döyüşün adı arasındakı uyğunluğu müəyyən edin:

	illustasiya		Döyüşün adı
A		1	Hastinqs döyüşü
B		2	Tevtoburq meşə döyüşü

C		3 İss döyüşü
D		4 Mohaç döyüşü
		5 Orlean mühasirəsi
		6 Lepanto döyüşü

Tapşırıq üçün təlimat 6: Şəkilləri diqqətlə müşahidə edin və suallara cavab verin: Tapşırığın maksimum qiyməti 9 xaldır.



Suallar:

- 6.1. Verilmiş illüstrasiyalarda süjeti təsvir olunan qədim yunan mifinin adı nədir?
- 6.2. Bu mifin qəhrəmanları hansı krallığa getdilər və onların başçılarının adı nə idi?
- 6.3. Bu mifin qəhrəmanlarının səyahət etdiyi gəminin adı nə idi və bu səyahətin konkret məqsədi nə idi?
- 6.4. Səyyahların başçısına məqsədinə çatmaq üçün kim kömək etdi və əfsanəyə görə onun adı ilə hansı elmin adı bağlıdır?
- 6.5. XX əsrin sonlarında bu mifoloji ekspedisiyanın marşrutunu kim təkrarlamışdır və tədqiqatçının bu səyahətə həsr etdiyi kitabın adı nədir?

Tapşırıq üçün təlimat 7: Tapşırığın şərti qarşınızdadır, onu diqqətlə oxumalı və təklif olunan altsuallara uyğun olaraq aşağıdakı mövzu ilə bağlı fikir və arqumentlərinizi formalaşdırmalısınız.

- ***Öz fikrinizi aydın , başa düşüln, hərtərəfli və sübuta yetirilmiş şəkildə formalaşdırın. Sizin müzakirəniz məntiqi cəhətdən qaydaya salınmış və abzaslarla bir-birindən ayrılmış olmalıdır.***
- ***Əgər verilmiş tapşırıq bütövlükdə qeyri-adekvatdırsa və yaxud dil cəhətdən o dərəcədə anlaşılmazdır ki, fikri başa düşmək çətinidir, yazı yoxlanılmayacaqdır.***

Tapşırığın maksimum qiyməti 10 xaldır.

7.1. 1956-cı ildə Macarıstanda müəyyən bir hadisə inkişaf etdi.

- Bu hadisənin inkişaf etməsinin səbəbini deyin
- Bu hadisənin inkişaf mərhələlərini təsvir edin
- Bu hadisənin nəticəsini deyin

7.2. Bu hadisəni müsbət qiymətləndirmək üçün bir arqument gətirin.

7.3. Bu hadisəni mənfi qiymətləndirmək üçün bir arqument gətirin.

7.4. XX əsrin 50-70-ci illərində başqa dövlətdə inkişaf etmiş oxşar hadisəni adlandırın. Bu oxşarlığın özünü nədə əks etdirdiyini mütləq izah edin.