

ეროვნული სასწავლო ოლიმპიადა
გეოგრაფია
(რუსულ ენაზე)
II ტური
2025-2026 წწ.

Инструкция

К каждому вопросу даны четыре варианта ответа. Из них только один правильный. Выбранный ответ перенесите в лист ответов: в соответствующую клетку поставьте знак X. Ни одно другое обозначение - горизонтальные или вертикальные линии, обводка и т.п. - электронной программой не идентифицируется. Если Вы желаете исправить помеченный ответ в листе ответов, целиком закрасьте клетку, в которую поставлен знак X, и после этого отметьте новый вариант ответа (поставьте знак X в новую клетку). Невозможно снова выбрать тот ответ, который Вы уже исправили. Каждое задание оценивается в 1 балл.

(1 б.) 1. Что является причиной образования Аризонского кратера, показанного на фотографии?

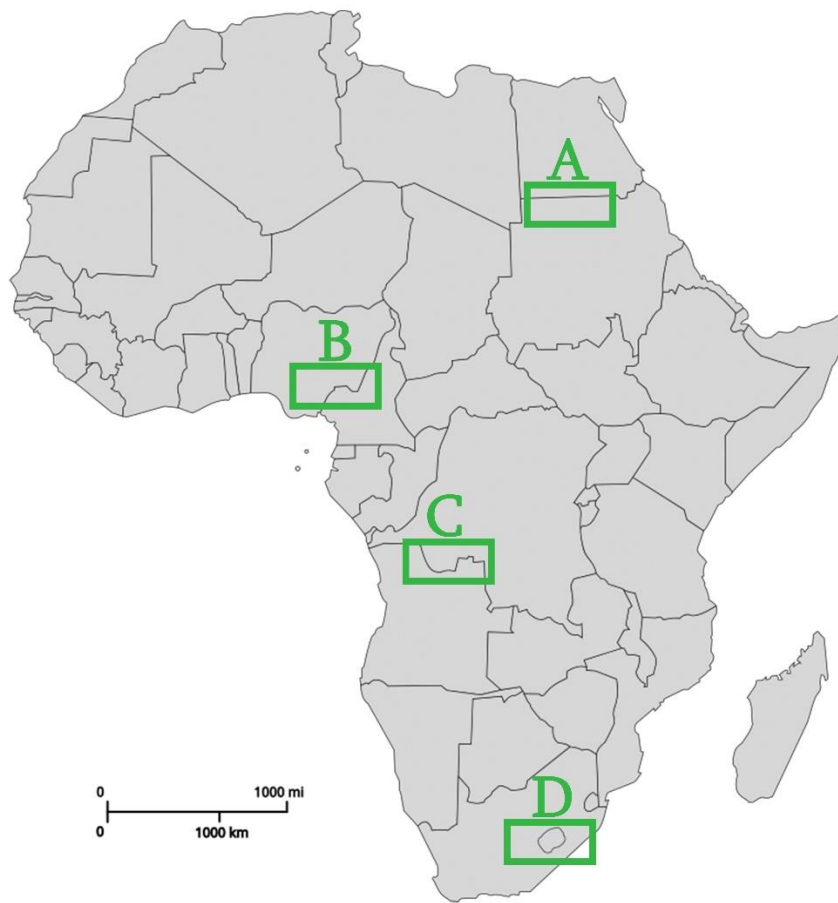


- а) извержение вулкана;
- б) добыча полезных ископаемых;
- в) провал, произошедший во время землетрясения;
- г) падение метеорита;

(1 б.) 2. Где началась массовая культивация цитрусов в Грузии в 1920-30-ых годах?

- а) на Иорском плоскогорье;
- б) на Колхидской низменности;
- в) в Рачинской котловине;
- г) в Алазанской долине.

(1 б.) 3. Какой из отмеченных на контурной карте Африки участков границ является примером «геометрической границы» ?



- а) A
- б) B
- в) C
- г) D

(1 б.) 4. Как отражается постоянная температура +14°C в Пещере Прометея на ее природных процессах?



- а) способствует сохранению натечно-капельных образований;
- б) вызывает разрушение пород и землетрясения;
- в) снижает количество кислорода и прозрачность воздуха в пещере;
- г) увеличивает процесс распада известняка механическим путем.

(1 б.) 5. Три из нижеприведенных фотографий сняты в Грузии. Какая фотография не снята в Грузии?




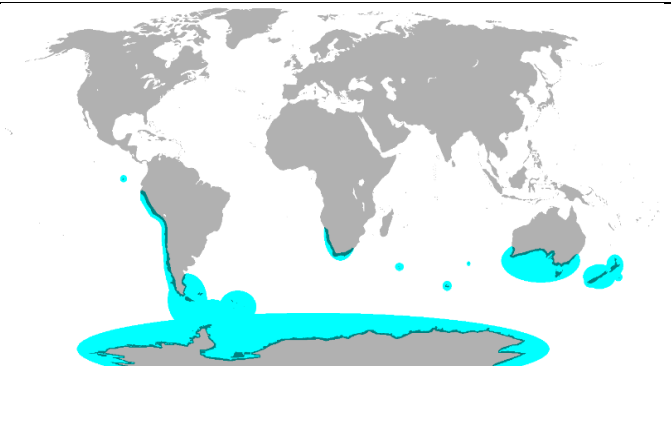

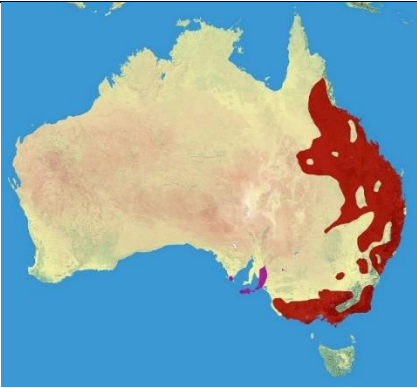



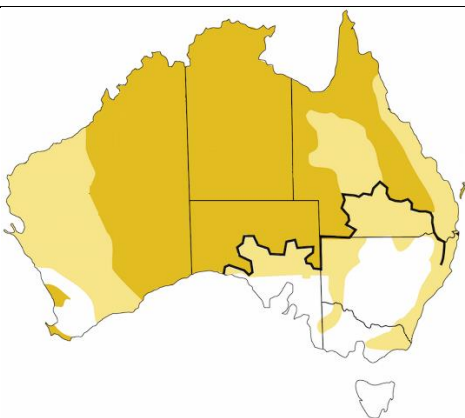
➤ **Установление соответствия - задание № 6-8**




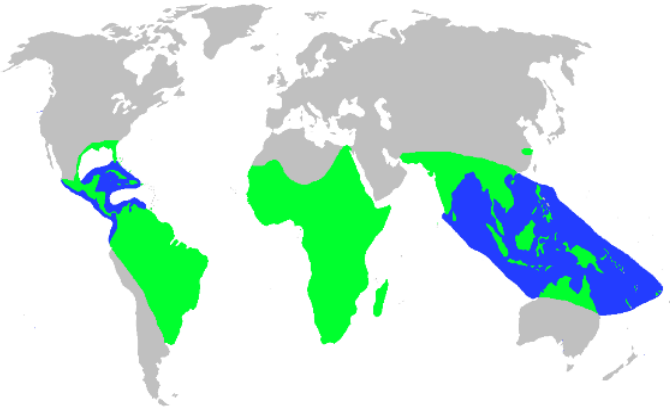

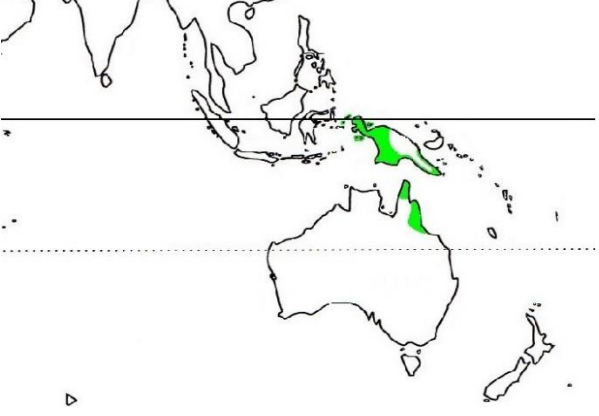
Инструкция

Установите соответствие между двумя перечнями, которые даны в задании. Ответы перенесите в таблицу, данную на листе ответов. Под каждой буквой запишите соответствующую цифру. Количество баллов определяется по каждому конкретному заданию.

(8 б.) 6. Определите соответствие (учтите, что повтор ответа невозможен):

| | Фото | | Карта ареала распространения |
|---|----------------|---|------------------------------|
| а | <p>Пингвин</p> | 1 | |



| | | | |
|---------|---|---|--|
| 8 |  | 2 |  |
| Коала | | | |
| 8 |  | 3 |  |
| Джейран | | | |
| 8 |  | 4 |  |
| Динго | | | |
| 9 |  | 5 |  |
| Панда | | | |

| | | | |
|---|---|---|--|
| 3 |  | 6 |  |
| 6 | Крокодил | | |
| 7 |  | 7 |  |
| 7 | Пума | | |
| 8 |  | 8 |  |
| 8 | Казуары | | |

| | | | | | | | |
|---|---|---|---|---|---|---|---|
| 3 | 6 | 7 | 8 | 7 | 3 | 7 | 8 |
| | | | | | | | |

(6 б.) 7. Определите соответствие (учтите, что повтор ответа невозможен):

| | Путешественник | | Информация о личности |
|---|---|---|--|
| 5 |  <p>Ибн-Баттута</p> | 1 | Выдающийся путешественник, мореплаватель и дипломат династии Мин, возглавивший семь крупномасштабных военно-торговых морских экспедиций на побережья Индокитая, Индостана, Аравийского полуострова и Южной Африки. |
| 8 |  <p>Фрейя Старк</p> | 2 | Видный представитель эпохи Великих географических открытий, который первым из европейцев прошел в Тихий океан из Атлантического океана. |
| 8 |  <p>Джеймс Кук</p> | 3 | В XIV веке путешествовал по странам Африки и Азии, за 30 лет прошел примерно 120 000 километров и описал множество культур и произвел первичное документирование. |
| 9 |  <p>Марко Поло</p> | 4 | Совершил революцию в морских исследованиях, возглавил три кругосветные морские экспедиции. Вследствие конфликта с местными жителями погиб на Гавайских островах. |

| | | | |
|---|---|---|---|
| 9 |  | 5 | Его многолетнее путешествие в Азию и книга, написанная вследствие путешествия оказали значительное влияние на мореплавателей эпохи Великих географических открытий, в особенности на Христофора Колумба. |
| 3 |  | 6 | Этот путешественник и писатель разрушил гендерные и культурные барьеры; его исследования особенно ценятся из-за детальных и гуманистических наблюдений. Он достиг глубокой старости и скончался в возрасте 100 лет. |

Чжэн Хэ

Фернан Магеллан

| | | | | | |
|---|---|---|---|---|---|
| ა | ბ | გ | დ | ე | ვ |
| | | | | | |

(8 б.) 8. Определите соответствие (учтите, что повтор ответа невозможен):

| | Азимут из г. Кутаиси | | Населенный пункт |
|---|----------------------|---|------------------|
| ა | 3° | 1 | Поти |
| ბ | 162° | 2 | Амброლაური |
| გ | 303° | 3 | Батуми |
| დ | 54° | 4 | Местиа |
| ე | 262° | 5 | Гори |
| ვ | 106° | 6 | Сухуми |
| ზ | 234° | 7 | Ахалцихе |
| თ | 180° | 8 | Адигени |

| | | | | | | | |
|---|---|---|---|---|---|---|---|
| ა | ბ | გ | დ | ე | ვ | ზ | თ |
| | | | | | | | |

Инструкция

Проанализируйте данную в задании информацию и ответьте на вопросы. Ответы запишите в специально отведенном для этого месте на листе ответов. Количество баллов определяется по каждому конкретному заданию.

(4 б.) 9. Проанализируйте иллюстрацию и ответьте на вопросы:

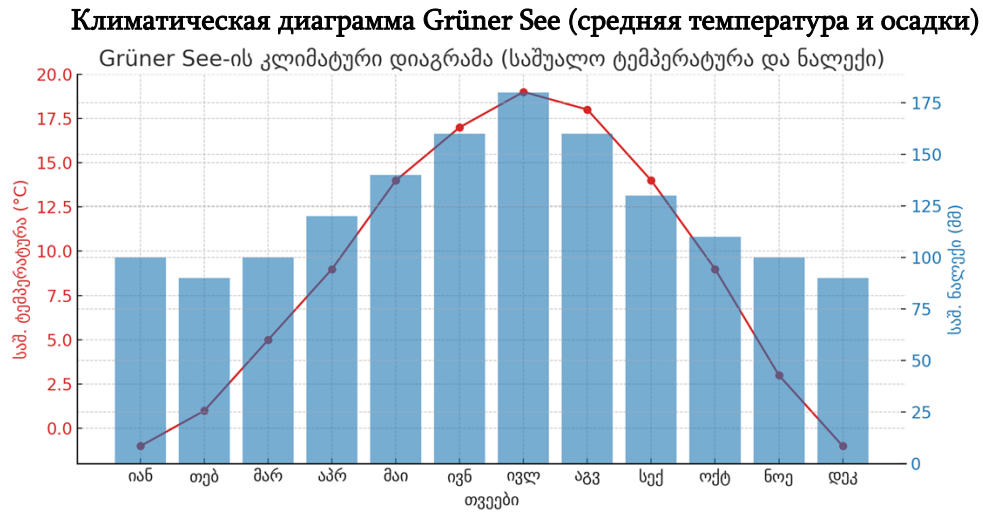


(1 б.) 9.1. Транспортирование какого полезного ископаемого показано на фотографии?

- а) нефти;
- б) известняка;
- в) каменного угля;
- г) гипса.

(3 б.) 9.2. Что необходимо сделать в целях безопасности при транспортировке данного полезного ископаемого соответствующим методом (назовите конкретное мероприятие, показанное на фотографии) и назовите две причины по которым необходимо выполнить данное мероприятие?

(4 ბ.) 10. В предгорье Австрийских Альп находится высыхающее (временное) Зеленое озеро (Grüner See), в котором вода собирается только на несколько недель, в основном в период с мая по июнь. Назовите и объясните, каковы геоморфологические и климатические факторы, обуславливающие это?



(5 6.) 11. Проанализируйте текст и ответьте на вопросы:

Аргентина - одна из самых больших стран мира. Она расположена в Южном полушарии и простирается от южных тропиков до ледяных ландшафтов Патагонии. Аргентина известна своей многообразной географией: Анды на западе, плодородные пампасы в центре и обширные равнины Патагонии на юге.

Страна отличается культурной идентичностью, основанной на европейских и местных влияниях. Столицу Буэнос-Айрес часто называют «Парижем Южной Америки» из-за ее архитектуры и культурной жизни. Аргентина – родина танго, также известна высококачественной говядиной, страстными футбольными болельщиками и такими чудесами природы, как водопады Игуасу и ледник Перито-Морено.

Ее экономика основана на сельском хозяйстве, горной добыче и промышленности, однако инфляция и внешний долг по-прежнему остаются проблемами для страны.



- (1 6.) 11.1. Какое место занимает Аргентина в Южной Америке по величине площади?
- (1 6.) 11.2. Как называют природную зону, соответствующую пампасам на континентах Азии и Европы?
- (2 6.) 11.3. Какие две национальности европейских эмигрантов оказали наибольшее влияние на местную культуру?
- (1 6.) 11.4. Рассчитайте, чему равняется показатель торгового сальдо Аргентины?